

## St. Vitus – Grablege des letzten Ritters von Handschuhsheim

Du befindest dich in einer katholischen Pfarrkirche aus dem 11. Jahrhundert, die in späteren Jahrhunderten immer wieder umgebaut wurde. Sie enthält im rechten Seitenschiff eine Reihe von Grabmälern der Ritter von Handschuhsheim aus der Zeit der Renaissance (Zeit nach dem Mittelalter).


**Erkunde die Kirche und bearbeite die folgenden Aufgaben!**

**Aufgabe 1:** Suche dieses Gesicht!

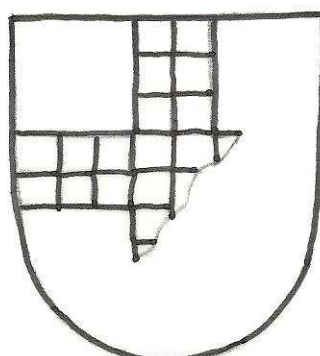


©Simone Heuser

**Aufgabe 2:** In der Kirche sind viele Wappen abgebildet. Suche sie und ergänze die Zeichen von Frankenstein und Ingelheim.



*Frankenstein*



*Ingelheim*

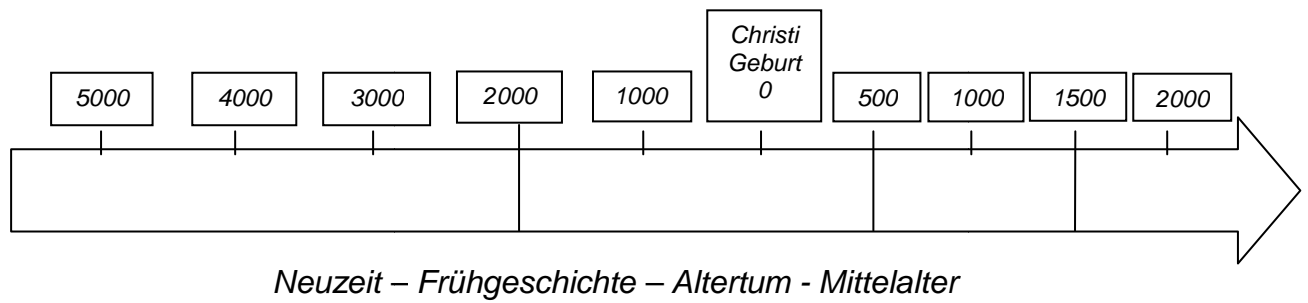
© Zeichnungen: Simone Heuser

**Aufgabe 3:** Suche das Grabmal von Hans und Barbara von Handschuhsheim und versuche herauszufinden, in welchem Jahr sie geboren wurden. Bei Barbara musst du etwas rechnen.

**Hans von Handschuhsheim, geboren am \_\_\_\_\_, gestorben am 08. Januar 1601.**

**Barbara von Handschuhsheim, geboren im Jahre \_\_\_\_\_, gestorben am \_\_\_\_\_.**

**Aufgabe 4:** Wenn man das Fach Geschichte in der Schule neu bekommt, lernt man, dass Historiker die Geschichte in mehrere große Abschnitte unterteilt haben, die so genannten Epochen. Kennst du sie noch und kannst du sie dem Zeitstrahl zuordnen? Trage sie in den Zeitstrahl ein.



**Aufgabe 5:** In welcher Epoche hat Hans von Handschuhheim gelebt? \_\_\_\_\_

**Aufgabe 6:** Suche die Gegenstände auf den nachfolgenden Abbildungen und beschreibe, wo du sie gefunden hast.



© Simone Heuser

---



---



---



© Simone Heuser

---



---



---

Kannst du dir vorstellen, wer das ist? \_\_\_\_\_

---



---



---



© Simone Heuser

**Aufgabe 7:** Schau dir nun noch einmal genau alle Personen an, die hier in der Kirche abgebildet sind. Versuche herauszufinden, welche Gemeinsamkeit alle Figuren haben. Wie könnte es dazu gekommen sein?

---



---

## St. Vitus – Grablege des letzten Ritters von Handschuhsheim

Du befindest dich in einer katholischen Pfarrkirche aus dem 11. Jahrhundert, die in späteren Jahrhunderten immer wieder umgebaut wurde. Sie enthält im rechten Seitenschiff eine Reihe von Grabmälern der Ritter von Handschuhsheim aus der Zeit der Renaissance (Zeit nach dem Mittelalter).


**Erkunde die Kirche und bearbeite die folgenden Aufgaben!**

**Aufgabe 1:** Suche dieses Gesicht.

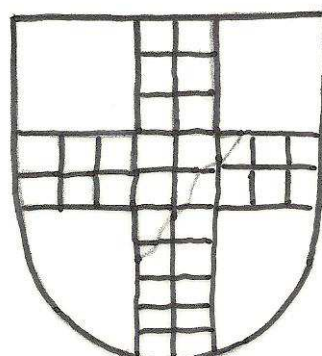


©Simone Heuser

**Aufgabe 2:** In der Kirche sind viele Wappen abgebildet. Suche sie und ergänze die Zeichen von Frankenstein und Ingelheim.



*Frankenstein*



*Ingelheim*

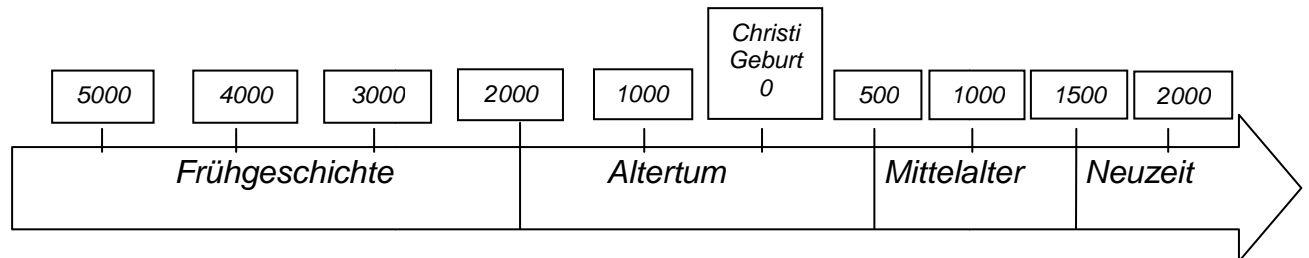
© Zeichnungen: Simone Heuser

**Aufgabe 3:** Suche das Grabmal von Hans und Barbara von Handschuhsheim und versuche herauszufinden, in welchem Jahr sie geboren wurden. Bei Barbara musst du etwas rechnen.

**Hans von Handschuhsheim, geboren am** 25. Juni 1585,  
**gestorben am 08. Januar 1601.**

**Barbara von Handschuhsheim, geboren im Jahre** 1586,  
**gestorben am** 6. Oktober 1599.

**Aufgabe 4:** Wenn man das Fach Geschichte in der Schule neu bekommt, lernt man, dass Historiker die Geschichte in mehrere große Abschnitte unterteilt haben, die so genannten Epochen. Kennst du sie noch und kannst du sie dem Zeitstrahl zuordnen? Trage sie in den Zeitstrahl ein.



*Neuzeit – Frühgeschichte – Altertum - Mittelalter*

**Aufgabe 5:** In welcher Epoche hat Hans von Handschuhshheim gelebt? Neuzeit

**Aufgabe 6:** Suche die Gegenstände auf den nachfolgenden Abbildungen und beschreibe, wo du sie gefunden hast.



©Simone Heuser

Am Grabmal von Hans und Barbara, auf dem Sockel unten

rechts.



©Simone Heuser

Am Grabmal auf der gegenüberliegenden Seite (Heinrich IX. von Handschuhshheim und Amalie von Ingelheim, die Eltern von Hans und Barbara)

Kannst du dir vorstellen, wer das ist? Der kleine Hans.

Oben auf dem Grabmal (in der Bekrönung) von Hans und Barbara. Es sind die Wappen von Handschuhshheim und Ingelheim.



©Simone Heuser

**Aufgabe 7:** Schau dir nun noch einmal genau alle Personen an, die hier in der Kirche abgebildet sind. Versuche herauszufinden, welche Gemeinsamkeit alle Figuren haben. Wie könnte es dazu gekommen sein?

Allen dargestellten Personen hat man die Nasen abgeschlagen. Bauern und Bürger haben damit gegen die Adligen protestiert, indem sie ihre Grabmäler beschädigten.