

AB 1a Römische Siedlungsformen

Römische Siedlungsformen: burgus, castra oder castellum, civitas oder municipium, vicus, villa rustica.

Übersetzung und Erklärung: Gutshof, Handwerker- und Händlersiedlung, Wehrturm oder turmartiges kleines Kastell, befestigtes Militärlager oder Kastell, Stadt

| Römische Siedlungsform | Übersetzung und Erklärung |
|------------------------|---------------------------|
| | |
| | |
| | |
| | |
| | |

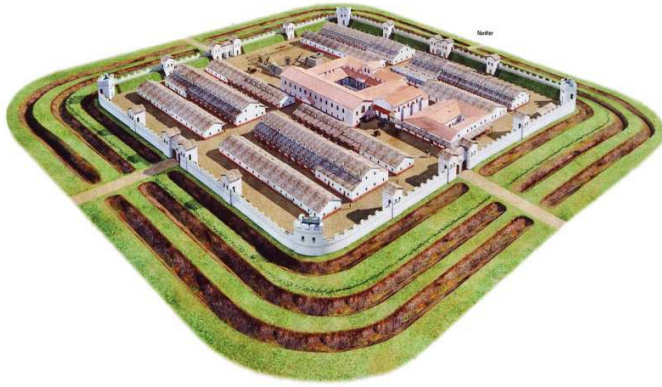
1. Ordne den lateinischen Namen römischer Siedlungsformen die deutsche Übersetzung und/oder Erklärung zu.
2. Nenne die im Folgenden abgebildete Siedlungsform und erläutere stichwortartig ihre Besonderheit.



B 4 © Modell Joachim Woditsch



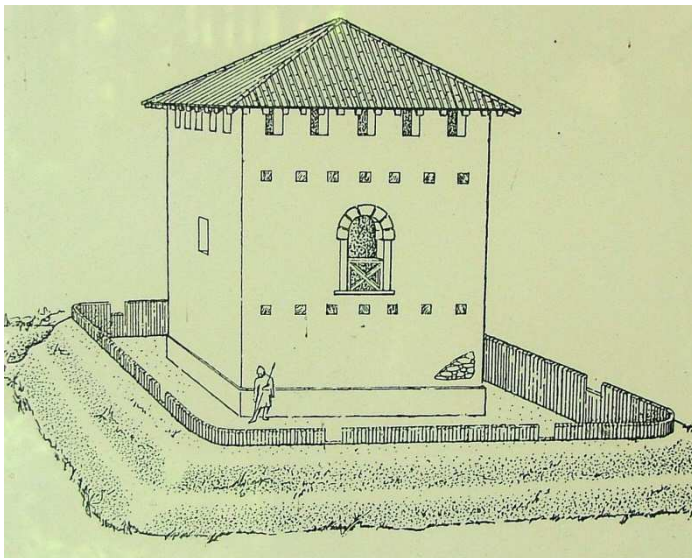
B 5 © Modell Reinhold Fischer



B 3 © Foto Informationstafel

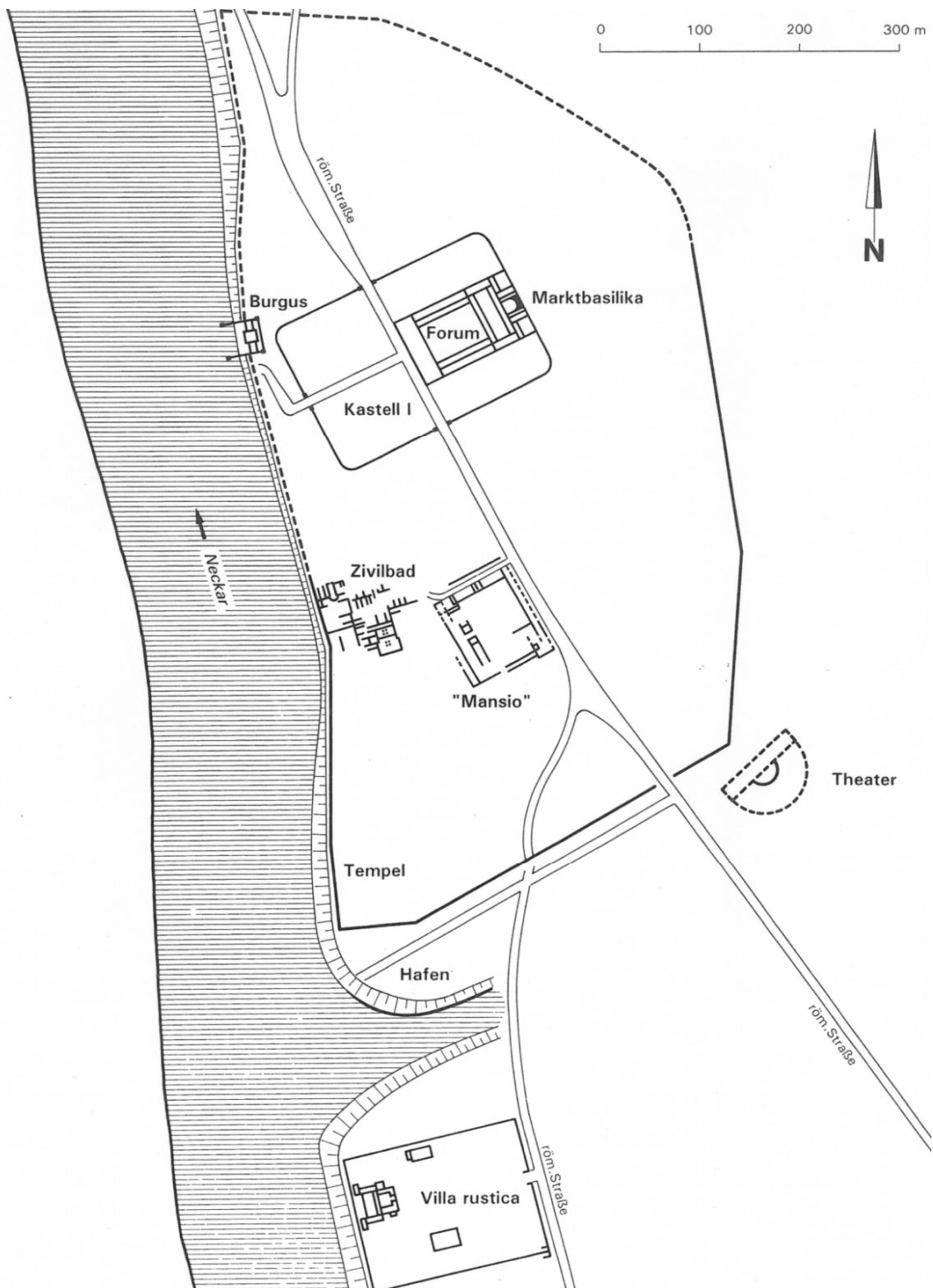


B 6 © Modell Dr. Marnik Wastyn



B 7 © Modell Richard Mayer

3. Nenne die Siedlungsformen, die Du auf dem folgenden Plan von Lopodunum (1. bis 4. Jahrhundert) erkennst und markiere sie durch unterschiedliche Farben.



B 8 © Berndmark Heukemes

4. Ordne mit Hilfe von D1 die Siedlungsformen nach ihrem Entstehungsdatum und trage dein Ergebnis in die folgende Tabelle ein.

| Entstehungszeit in Lopodunum | Römische Siedlungsform | Übersetzung und Erklärung |
|---------------------------------|------------------------|------------------------------|
| | | |
| | | |
| | | |
| | | |
| | | |

5. Nenne die Siedlungsform, die auf dem Plan fehlt und überlege warum.