

AB 1c Römische Siedlungsformen

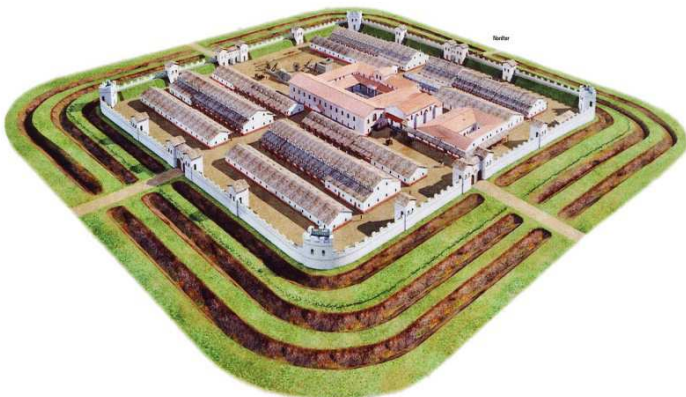
1. Nenne mit Hilfe von D 1 die Siedlungsform, die Du auf den folgenden Abbildungen erkennst, nenne ihren deutschen Namen und erlautere stichwortartig ihre Aufgabe bzw. Funktion.



B 4 © Modell Joachim Woditsch




B 5 © Modell Reinhold Fischer



B 3 © Foto Informationstafel



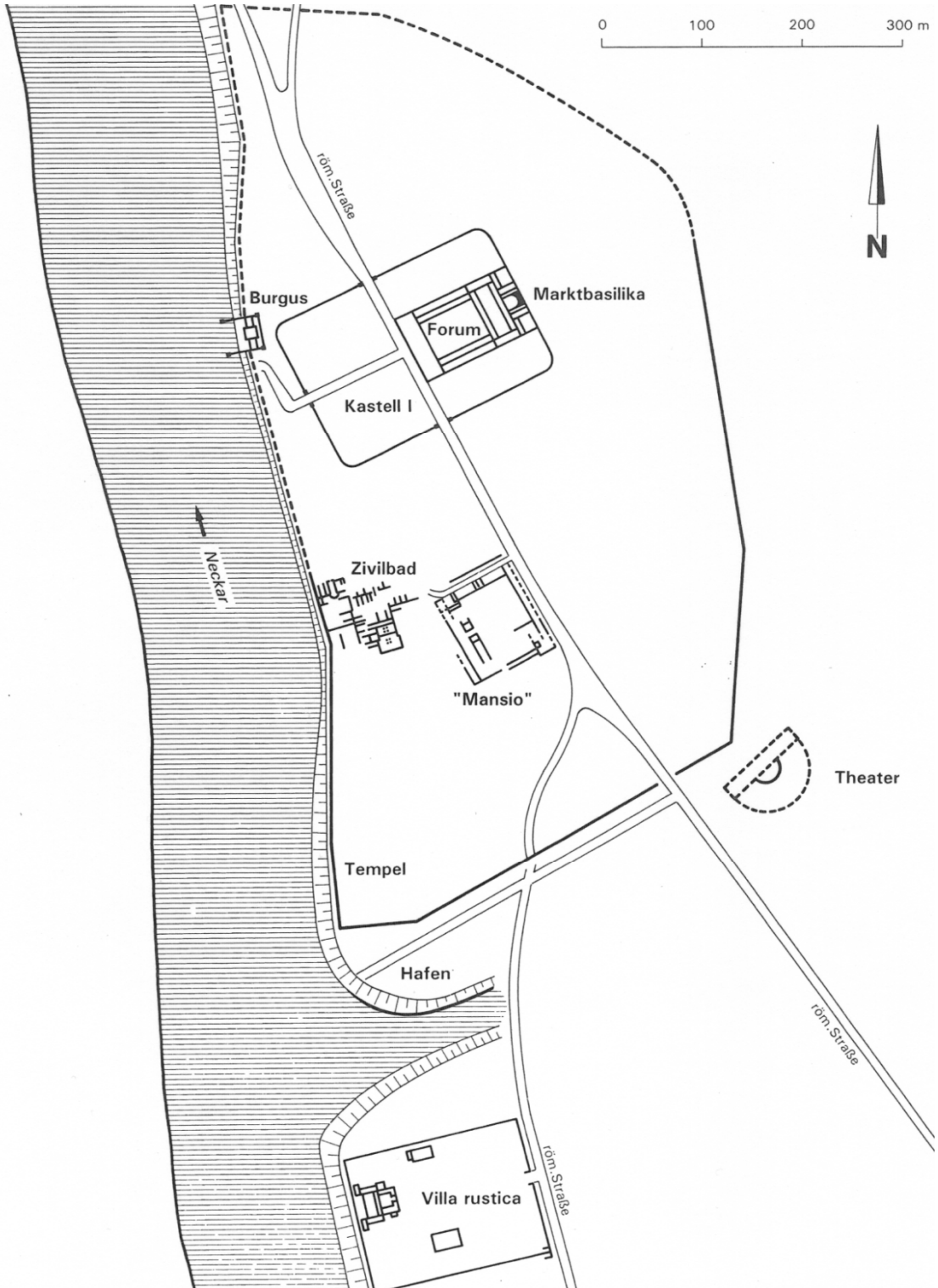
B 6 © Modell Dr. Marnik Wastyn



B 7 © Modell Richard Mayer

2. Nenne die Siedlungsform, die so wie sie im Modell wiedergegeben wird, nicht (über)lebensfähig war und erläutere die Gründe.

3. Nenne die Siedlungsformen, die Du auf dem folgenden Plan von Lopodunum (1. bis 4. Jahrhundert n. Chr.) erkennst, und markiere sie durch unterschiedliche Farben.



© Berndmark Heukemes

4. Ordne mit Hilfe von D 1 die Siedlungsformen nach ihrem Entstehungsdatum und trage dein Ergebnis in die folgende Tabelle ein.

Entstehungszeit in Lopodunum	Römische Siedlungsform	Übersetzung und Erklärung

5. Nenne die Siedlungsform, die auf dem Plan fehlt; erkläre, warum sie fehlt.