



VILLA RUSTICA BEI WALLDORF / BADEN




BILDERRALLYE FÜR SCHÜLER
AUF DEN SPUREN DER RÖMER




**Das Leben in einer Villa rustica wie der bei Walldorf / Baden
Lasse den Alltag lebendig werden.**




Vorlage für eine Arbeit in Gruppen

Teil I Das Gebäude

Nr	Bild	Aufgabe	Antwort
1		<p>Beschreiben Sie / Beschreibe einige Merkmale einer Villa rustica.</p>	
2	 <p>Handwritten notes on the image: - Top left: röm. Straße für Filices (in C) - Top right: jenseits des Weges Fortsetzung der Straße nach Noste hin. - Bottom left: wulfen - Bottom center: Straße - Bottom right: Blick nach Süd</p>	<p>Versuchen Sie / Versuche herauszufinden, a) wann die Straße gebaut wurde, b) wer ihre Erbauer waren und c) von wem der Bau veranlasst wurde.</p>	

<p>3</p>		<p>Beschreiben Sie / Beschreibe an Hand der Abbildung, wie eine Ausgrabung teilweise vorgenommen wird.</p>	
<p>4</p>		<p>Beschreiben Sie / Beschreibe, wozu das Wasser aus dem Brunnen genutzt wurde.</p> <p>Gibt es einen Grund, weshalb man nicht das Wasser aus dem anzunehmenden Mühlkanal aus dem vicus bei Wiesloch nutzte?</p>	
<p>5</p>		<p>Versuchen Sie / Versuche, den Bau einer Feuerstelle nachzuahmen. Was ist alles zu beachten? In welchen Raum bzw. in welche Räume gehört sie?</p> <p>Gibt es Hinweise auf eine Heizungsanlage in der Villa?</p>	

<p>6</p>	 <p>Estrich, auf dem die Hypokaustpfeiler standen</p>	<p>Ist Estrich auf dem Boden</p> <p>a) ein notwendiger, b) ein luxuriöser, c) ein entbehrlicher Teil eines Wohnhauses? Begründen Sie / Begründe die Entscheidung.</p>	
<p>7</p>	 <p>Fläche C</p> <p>Die Nord-Ost-Ecke der Umfassungsmauer; Blick nach ca. Südosten</p>	<p>Schloss die Umfassungsmauer die Bewohner ein? Diente sie zum Schutz vor Angriffen? War es lediglich eine Abgrenzung gegenüber dem offenen Feld?</p>	
<p>8</p>	 <p>Fläche B</p> <p>Pfeilergruben eines Holzgebäudes der früheren Bauphase</p>	<p>Beschreiben Sie / Beschreibe den Verwendungszweck des Holzbaus. Ist er auf dem Lageplan zu finden?</p>	

<p>9</p>		<p>Ist Verputz an der Wand, dazu noch eingefärbt und bemalt</p> <p>a) ein notwendiger, b) ein luxuriöser, c) ein entbehrlicher Teil eines Wohnhauses? Begründen Sie / Begründe die Entscheidung.</p>	
<p>10</p>		<p>Beschreiben Sie / Beschreibe den Zusammenhang zwischen den Rillen in dem Wandziegel und dem Verputz der Villa.</p>	
<p>11</p>		<p>Beschreiben Sie / Beschreibe die Funktionsweise der Hypocaustanlage.</p>	