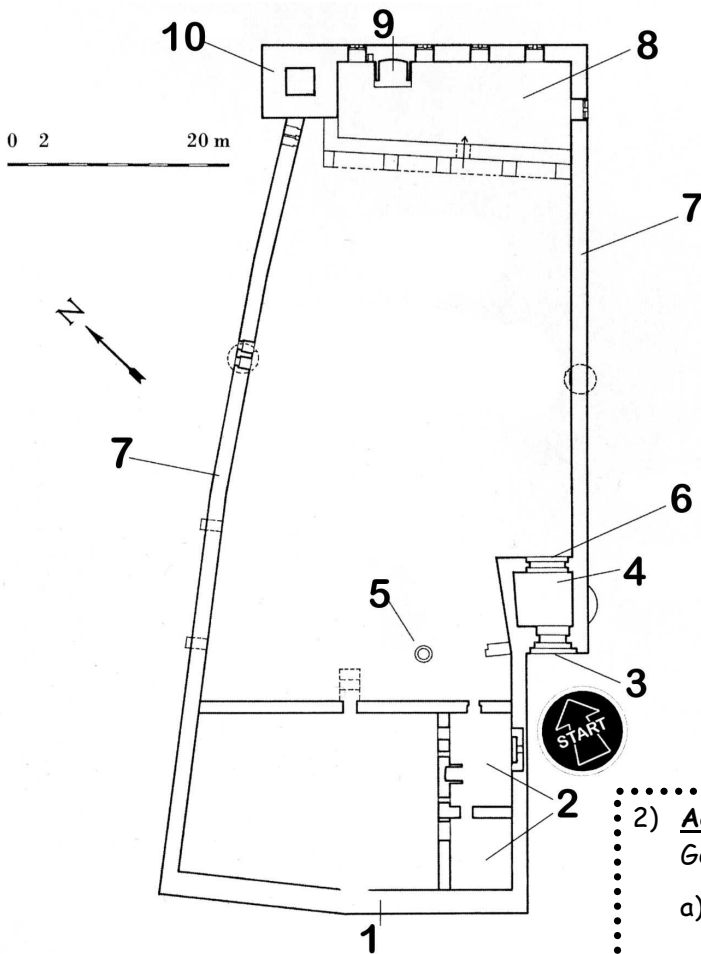


Namen: _____

Burg Wildenberg - Erkundet die Burg und findet das Lösungswort!



Grundrissplan der Burg Wildenberg

(Ursprungsgrafik: © Verlag Hermann Emig / Veränderung: © Claus Hanak)

Euer Auftrag:
1) Ordnet die Zahlen aus dem Grundrissplan der Beschreibung zu!

Beschreibung:

- ___ Kamin
- ___ Außentor
- ___ Zisterne
- ___ Nordturm
- ___ Ringmauer
- ___ Palas
- ___ Schildmauer
- ___ Torturm
- ___ Innentor
- ___ Kemenate (Wohnbau)

2) **Achtung!** Im Grundrissplan der Burg fehlen zwei Gebäudeteile!

- a) Findet heraus, welche Teile das sind und zeichnet sie nachträglich in den Grundriss ein!
- b) Notiert die Namen dieser fehlenden Teile unten!
(**Tipp:** Nutzt die Informationstafeln am Eingang zur Burg!)
- c) Der 2. und 3. Buchstabe des Gebäudeteils mit der Zahl 1 sind der 6. und 7. Buchstabe im Lösungswort.

Diese Gebäudeteile fehlen:

___ _ _ _ _ 4 _ _ _ _ 13 _ R & _ _ _ _ 14 _ _ F _ _ _ _ 12

3) Ein weiterer wichtiger Bestandteil der Burg fehlt ebenfalls noch. Er befindet sich über dem Gebäude, dem ihr in der Beschreibung (oben) hoffentlich die Zahl 4 richtig zugeordnet habt!
(**Tipp:** Die Informationstafeln helfen euch!)

Gemeint ist:


B _ _ _ _ _ L _
2 15 3

4) An einer der Wände im Palas findet sich ein Mauerstein mit einer geheimnisvollen Inschrift. Sie besteht nur aus zwei Worten. Das erste Wort ist „OWE“. Findet diese Inschrift und vervollständigt sie unten!


O W E — — — — —
10 8 5 1

5) Auf vielen Steinen in der Mauer der Burg finden sich Steinmetzzeichen. Damit haben diese Handwerker im Mittelalter die von ihnen bearbeiteten und behauenen Steine markiert. Jeder Steinmetzmeister hatte damals sein eigenes Zeichen.


- a) Welches der unten abgebildeten Steinmetzzeichen findet ihr nicht auf der Wildenburg? Streicht es durch! Der Buchstabe darunter ist der 9. Buchstabe im Lösungswort.
- b) Zeichnet ein Steinmetzzeichen, das ihr entdeckt habt, in das vierte Kästchen ein.



T



U



V




W

6) Diese unten abgebildete Fenstergruppe aus dem Palas zeigt noch heute, dass die Burg Wildenberg einst ein prachtvolles Bauwerk war. Wie wird der Festsaal des Palas wegen dieser Rundbogenfenster noch genannt? (**Tip:** Infotafeln nutzen!)

— — — — — S A A L
11/16

Zusatzaufgabe: Leider ist von den Fenstern nicht mehr viel erhalten. Gebt ihnen ihre alte Schönheit zurück, in dem ihr die fehlenden Elemente wieder einzeichnet.



(Ursprungsgrafik: © Verlag Hermann Emig / Veränderungen: © Claus Hanak)

Lösungswort:

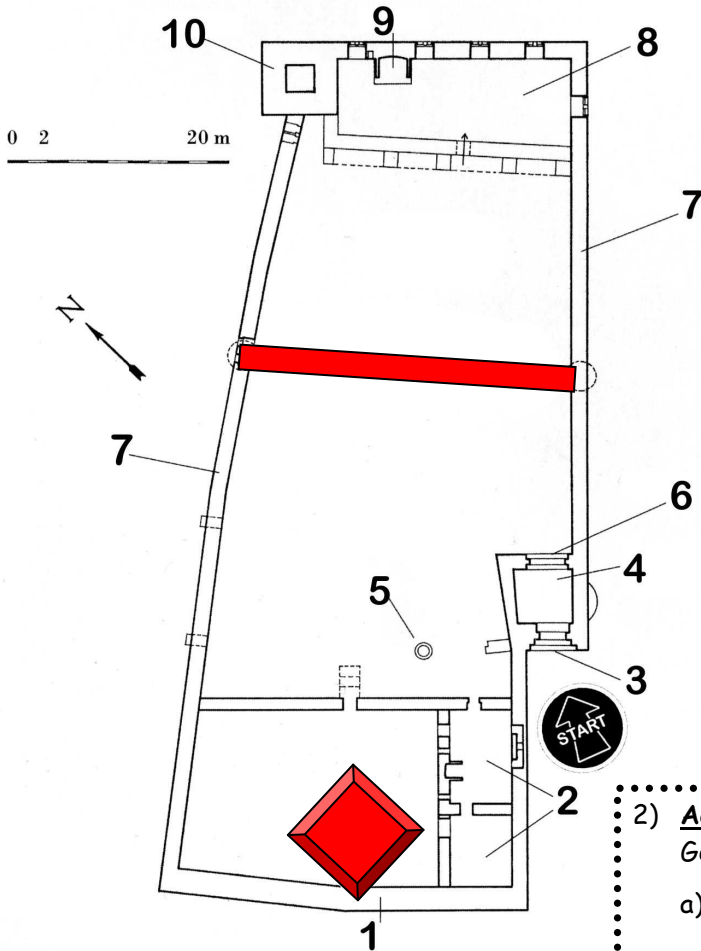
1 2 3 4 5 6 7 8 9 10 11 12 13 14 15 16

Erklärt, was das Lösungswort mit der Burg Wildenberg zu tun hat?

Namen: _____

Burg Wildenberg - Erkundet die Burg und findet das Lösungswort!

Lösung



Grundrissplan der Burg Wildenberg

(Ursprungsgrafik: © Verlag Hermann Emig / Veränderung: © Claus Hanak)

Euer Auftrag:

- 1) Ordnet die Zahlen aus dem Grundrissplan der Beschreibung zu!

Beschreibung:

- 9 Kamin
- 3 Außentor
- 5 Zisterne
- 10 Nordturm
- 7 Ringmauer
- 8 Palas
- 1 Schildmauer
- 4 Torturm
- 6 Innentor
- 2 Kemenate (Wohnbau)

- 2) **Achtung!** Im Grundrissplan der Burg fehlen zwei Gebäudeteile!

- a) Findet heraus, welche Teile das sind und zeichnet sie nachträglich in den Grundriss ein!
- b) Notiert die Namen dieser fehlenden Teile unten! (**Tipp:** Nutzt die Informationstafeln am Eingang zur Burg!)
- c) Der 2. und 3. Buchstabe des Gebäudeteils mit der Zahl 1 sind der 6. und 7. Buchstabe im Lösungswort.

Diese Gebäudeteile fehlen:

S P E R R M A U E R & B E R G F R I E D
4 13 14 12

- 3) Ein weiterer wichtiger Bestandteil der Burg fehlt ebenfalls noch. Er befindet sich über dem Gebäude, dem ihr in der Beschreibung (oben) hoffentlich die Zahl 4 richtig zugeordnet habt! (**Tipp:** Die Informationstafeln helfen euch!)

Gemeint ist:

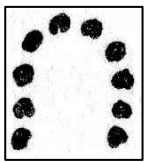
B U R G K A P E L L E
2 15 3

- 4) An einer der Wände im Palas findet sich ein Mauerstein mit einer geheimnisvollen Inschrift. Sie besteht nur aus zwei Worten. Das erste Wort ist „OWE“. Findet diese Inschrift und vervollständigt sie unten!


O W E M U T E R
10 8 5 1

- 5) Auf vielen Steinen in der Mauer der Burg finden sich Steinmetzzeichen. Damit haben diese Handwerker im Mittelalter die von ihnen bearbeiteten und behauenen Steine markiert. Jeder Steinmetzmeister hatte damals sein eigenes Zeichen.

- c) Welches der unten abgebildeten Steinmetzzeichen findet ihr nicht auf der Wildenburg? Streicht es durch! Der Buchstabe darunter ist der 9. Buchstabe im Lösungswort.
d) Zeichnet ein Steinmetzzeichen, das ihr entdeckt habt, in das vierte Kästchen ein.



T



U



V

individuelle
Lösung


W

- 6) Diese unten abgebildete Fenstergruppe aus dem Palas zeigt noch heute, dass die Burg Wildenberg einst ein prachtvolles Bauwerk war. Wie wird der Festsaal des Palas wegen dieser Rundbogenfenster noch genannt? (**Tipp:** Infotafeln nutzen!)

A R K A D E N S A A L

11/16

- Zusatzaufgabe:** Leider ist von den Fenstern nicht mehr viel erhalten. Gebt ihnen ihre alte Schönheit zurück, in dem ihr die fehlenden Elemente wieder einzeichnet.



(Ursprungsgrafik: © Verlag Hermann Emig / Veränderungen: © Claus Hanak)

Lösungswort:

R U P R E C H T V O N D U R E R N
1 2 3 4 5 6 7 8 9 10 11 12 13 14 15 16

Erklärt, was das Lösungswort mit der Burg Wildenberg zu tun hat?
Ruprecht von Dürn war der Erbauer der Burg Wildenberg.