

Lehrer: Kaumuskulatur I

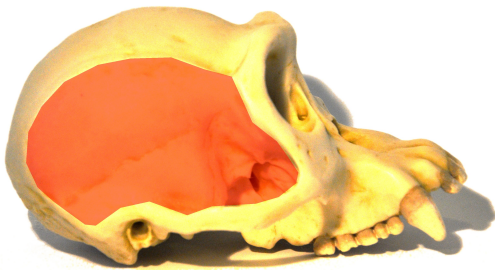
Aufgabe 1 Finden Sie die Ansatzstellen.
Ordnen Sie die Arten nach der Fläche der Ansatzstelle des Schläfenmuskels.



Gorilla >



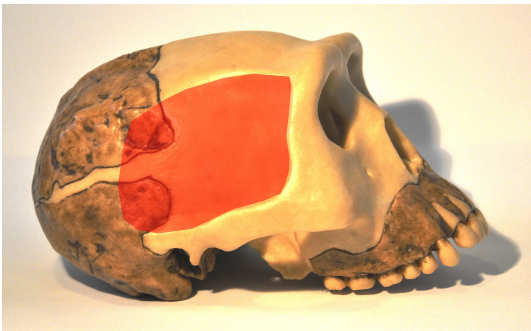
> Paranthropus boisei



> Schimpanse >



> Australopithecus africanus >




> Homo erectus



> Homo neanderthalensis >



> Homo sapiens



> Homo habilis