
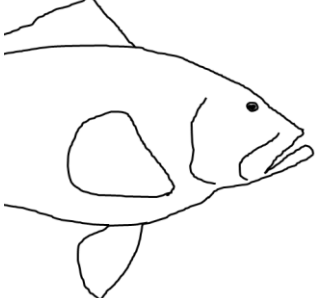
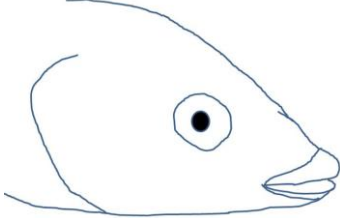


Aufgaben

Schau dir die Videos Nr. 2, 6, 32 aufmerksam an, Achte dabei nur auf das Maul der Tiere.

- Suche Fische mit den abgebildeten Maulformen.
- Nenne jeweils einen Vertreter!
- Wie ernähren sich diese Tiere?

Maulform	Ernährungsweise
 <p data-bbox="229 952 464 981">unterständiges Maul</p>	<p data-bbox="671 629 879 658">z.B. Meerbarbe</p> <p data-bbox="671 707 1469 813">Gründeln nach Kleintieren, Abweiden von Meerespflanzen und festem Untergrund nach pflanzlicher und tierischer Kost, häufig Schwarm bildend</p> <p data-bbox="671 853 807 882">Friedfisch</p>
 <p data-bbox="240 1341 469 1370">oberständiges Maul</p>	<p data-bbox="671 1028 922 1057">z.B. Zackenbarsch</p> <p data-bbox="671 1106 1445 1211">Scharfe, spitze Zähne, meist schräg nach hinten, entkommen einer Beute praktisch unmöglich, Lauern in Spalten auf Beute,</p> <p data-bbox="671 1252 810 1281">Raubfisch</p>
 <p data-bbox="236 1632 456 1662">endständiges Maul</p>	<p data-bbox="671 1417 887 1447">z.B. Meerjunker</p> <p data-bbox="671 1496 1445 1561">Insektenlarven, Krebse, dicht über dem Wasser lebende Insekten, adult auch Fische</p>

Merke:

Je nach Länge von Ober- und Unterkiefer unterscheidet man verschiedene Maularten

Unterkiefer länger als Oberkiefer = oberständiges Maul

Oberkiefer länger als Unterkiefer = unterständiges Maul

Oberkiefer und Unterkiefer gleichlang = endständiges Maul