










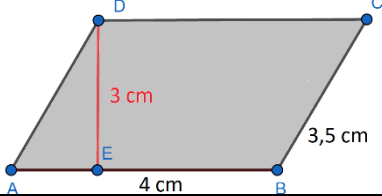


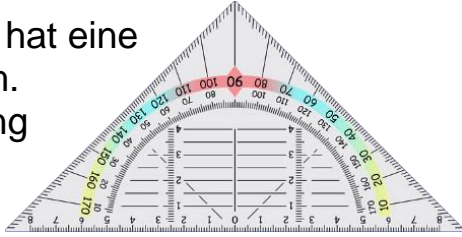




Bin ich fit?! – Flächenberechnung von Drei-/Vierecken

Teilgebiet	Diagnoseaufgabe	Lernvideo	Übung
Unterschied – Umfang und Flächeninhalt	Welche Farbe hat der Flächeninhalt dieses Sternes? 		
Winkelsumme in Flächen	Wie groß ist die Winkelsumme in einem Trapez?		
Umfang und Flächeninhalt des Quadrats	Die annähernd quadratische Uhr hat eine ungefähre Seitenlänge von 9 cm. Wie lang ist der Umfang in etwa? 		
Umfang und Flächeninhalt des Rechtecks	Berechne den Umfang und den Flächeninhalt dieses Fensters. Die Länge beträgt 3 dm und die Breite 2 dm. 		
Umfang und Flächeninhalt des Parallelogramms	Ist dieser Flächeninhalt 12 cm ² ? Begründe! 		
Umfang und Flächeninhalt des Dreiecks	Das Geodreieck hat eine Höhe von 8,5 cm. Berechne Umfang und Flächeninhalt. 		
Umfang und Flächeninhalt des Trapezes	Der Flächeninhalt wird mit 27,5 cm ² angegeben. Stimmt diese Angabe? 