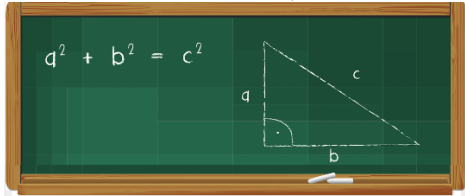






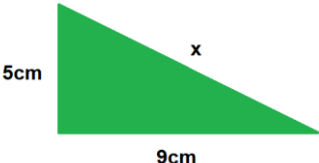



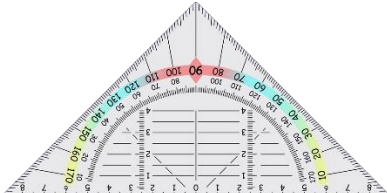


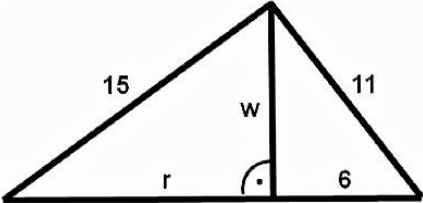




## Bin ich fit?! – Satz des Pythagoras I

Teilgebiet	Diagnoseaufgabe	Lernvideo	Quiz	Übung
Satz von Pythagoras - Grundbegriffe	Benenne die Fachausdrücke für die Strecken a,b und c 			
Satz von Pythagoras – Herleitung	Nenne ein anschauliches Beispiel des Satz des Pythagoras´			
Satz von Pythagoras – Einstiegsbeispiele	Bestimme die Länge der Hypotenuse. 			
Satz von Pythagoras – Rechtwinkliges Dreieck	Berechne die Länge der Katheten eines Standard-Geodreiecks. Überprüfe durch Messung. 			
Satz von Pythagoras – Allgemeines Dreieck	Bestimme den Flächeninhalt des Dreiecks. 			
Satz von Pythagoras – Gleichschenkliges Trapez	Bestimme den Umfang und den Flächeninhalt des gleichschenkligen Trapez 