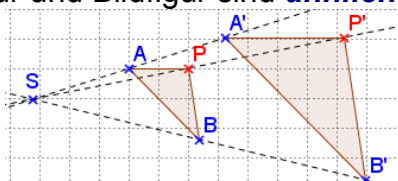
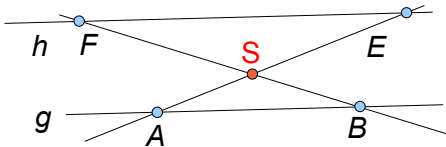
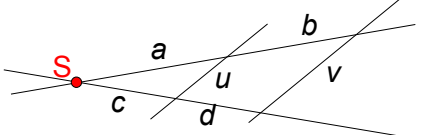


<p>1</p> <p>Wann heißen zwei Vielecke ähnlich?</p>	<p>Zwei Vielecke heißen ähnlich, wenn die Längenverhältnisse einander entsprechender Seiten gleich sind und wenn einander entsprechende Winkel gleich groß sind.</p> <p>(Sie haben dann die gleiche Form aber nicht zwingend die gleiche Größe.)</p>
--	--

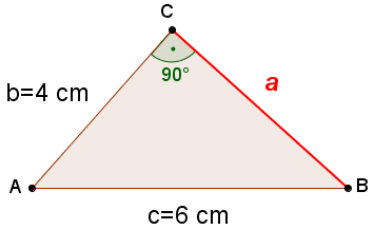
<p>2</p> <p>a) Beschreibe, wie ein Punkt P von einem Punkt S aus zentrisch mit dem Faktor k gestreckt wird.</p> <p>b) Was kann man über Figur und Bildfigur bei einer zentrischen Streckung sagen?</p>	<p>a) Zeichne einen Strahl von S aus durch P. Trage von S aus das k-fache der Länge der Strecke \overline{SP} ab und erhalte P'.</p> <p>b) Figur und Bildfigur sind ähnlich.</p> 
---	---

<p>3</p> <p>Wann sind zwei Dreiecke ähnlich? Begründe das $\triangle SAB$ und $\triangle SEF$ ähnlich sind ($g \parallel h$).</p> 	<p>Zwei Dreiecke sind ähnlich, wenn sie in den Winkeln oder in den Verhältnissen entsprechender Seiten übereinstimmen.</p> <p>Die Dreiecke $\triangle SAB$ und $\triangle SEF$ sind ähnlich, da sie in den Winkeln übereinstimmen (Scheitelwinkel, Wechselwinkel an Parallelen.)</p>
--	--

<p>4</p> <p>Formuliere die Strahlensätze anhand der Figur:</p> 	<p>Strahlensätze:</p> <p>Werden zwei Strahlen mit einem gemeinsamen Punkt S von zwei Parallelen geschnitten, dann gilt:</p> <p>1. Strahlensatz:</p> $\frac{a}{b} = \frac{c}{d}; \frac{a+b}{a} = \frac{c+d}{c}; \frac{a+b}{b} = \frac{c+d}{d}$ <p>2. Strahlensatz:</p> $\frac{u}{v} = \frac{a}{a+b} = \frac{c}{c+d}$
--	---

5

Berechne a und formuliere den Satz, der dafür benötigt wird.



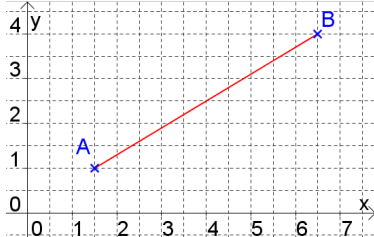
$a = \sqrt{36 - 16} \text{ cm} = \sqrt{20} \text{ cm} = 2\sqrt{5} \text{ cm}$

Satz des Pythagoras:
In einem rechtwinkligen Dreieck mit den Katheten a , b und der Hypotenuse c gilt:

$$a^2 + b^2 = c^2 \rightarrow a = \sqrt{c^2 - b^2}$$

6

Berechne die Länge der Strecke \overline{AB} .
Verallgemeinere die Lösung.

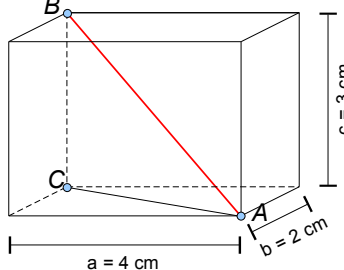


$A(1,5|1); B(6,5|4)$
 $\overline{AB} = \sqrt{(6,5 - 1,5)^2 + (4 - 1)^2} = \sqrt{34}$

Allgemein:
 $A(x_A|y_A); B(x_B|y_B)$
 $\overline{AB} = \sqrt{(x_B - x_A)^2 + (y_B - y_A)^2}$

7

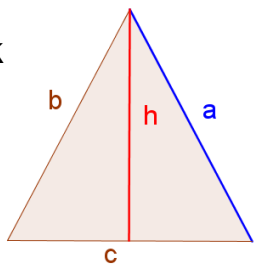
Berechne im Quader die Länge der Raumdiagonalen \overline{AB} .



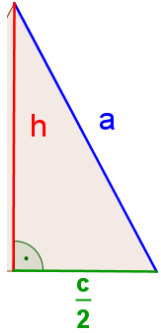
$\overline{AC} = \sqrt{2^2 + 4^2} \text{ cm} = \sqrt{20} \text{ cm}$
 $\overline{AB} = \sqrt{(\sqrt{20})^2 + 3^2} \text{ cm} = \sqrt{20 + 9} \text{ cm}$
 $\approx 5,4 \text{ cm}$

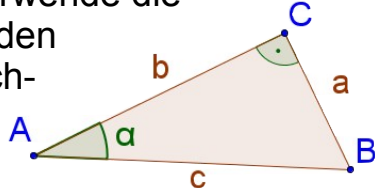
8

Berechne im gleichschenkligen Dreieck mit der Basis c die Höhe h .

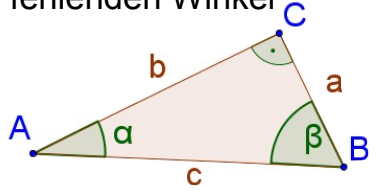


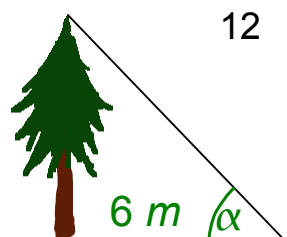
$a^2 = h^2 + \left(\frac{c}{2}\right)^2$ (Pythagoras)
 $\rightarrow h = \sqrt{a^2 - \left(\frac{c}{2}\right)^2} = \sqrt{a^2 - \frac{c^2}{4}}$

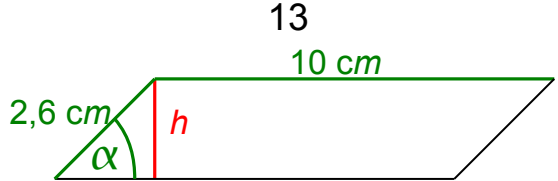


<p style="text-align: center;">9</p> <p>Wie sind $\sin \alpha$, $\cos \alpha$ und $\tan \alpha$ am rechtwinkligen Dreieck definiert? Verwende die entsprechenden Seitenbezeichnungen.</p> 	$\sin \alpha = \frac{a}{c} = \frac{\text{Gegenkathete}}{\text{Hypotenuse}}$ $\cos \alpha = \frac{b}{c} = \frac{\text{Ankathete}}{\text{Hypotenuse}}$ $\tan \alpha = \frac{a}{b} = \frac{\text{Gegenkathete}}{\text{Ankathete}}$
--	---

<p style="text-align: center;">10</p> <p>Begründe:</p> <ol style="list-style-type: none"> 1. $\tan \alpha = \frac{\sin \alpha}{\cos \alpha}$ 2. $(\sin \alpha)^2 + (\cos \alpha)^2 = 1$ Trigonom. Pythagoras 	<p>Mit dem rechten Winkel bei C gilt:</p> $\frac{\sin \alpha}{\cos \alpha} = \frac{\frac{a}{c}}{\frac{b}{c}} = \frac{a \cdot c}{c \cdot b} = \frac{a}{b} = \tan \alpha$ $(\sin \alpha)^2 + (\cos \alpha)^2 = \left(\frac{a}{c}\right)^2 + \left(\frac{b}{c}\right)^2 = \frac{a^2}{c^2} + \frac{b^2}{c^2}$ $= \frac{a^2 + b^2}{c^2} = \frac{c^2}{c^2} = 1$
---	---

<p style="text-align: center;">11</p> <p>Im rechtwinkligen Dreieck ABC gilt: $a = 2,2 \text{ cm}$ und $b = 4 \text{ cm}$. Berechne alle fehlenden Winkel und Seiten.</p> 	$\tan \alpha = \frac{a}{b} = \frac{2,2}{4} = 0,55 \rightarrow \alpha \approx 28,8^\circ (TR)$ $\beta = \gamma - \alpha = 90^\circ - 28,8^\circ = 61,2^\circ$ $\sin \alpha = \frac{a}{c} \rightarrow c = \frac{a}{\sin \alpha} = \frac{2,2 \text{ cm}}{\sin 28,8^\circ} \approx 4,6 \text{ cm}$ <p>Alternativ:</p> $c = \sqrt{a^2 + b^2} = \sqrt{2,2^2 + 16} \text{ cm} \approx 4,6 \text{ cm}$
--	---

<p style="text-align: center;">12</p>  <p>Wie groß ist der Baum, wenn $\alpha = 47,8^\circ$ beträgt?</p>	$\tan 47,8^\circ = \frac{h}{6 \text{ m}}$ $\rightarrow h = 6 \text{ m} \cdot \tan 47,8^\circ \approx 6,6 \text{ m}$ <p>Hinweis:</p> $\tan 45^\circ = 1 \rightarrow \tan 47,8^\circ \approx 1$
--	--

<p>13</p>  <p>Wie groß ist die Parallelogrammfläche, wenn $\alpha = 40^\circ$ beträgt?</p>	$\sin 40^\circ = \frac{GK}{Hyp} = \frac{h}{2,6 \text{ cm}}$ $\rightarrow h = 2,6 \text{ cm} \cdot \sin 40^\circ \approx 1,67 \text{ cm}$ $A_{\text{Parallelogramm}} = g \cdot h$ $= 10 \cdot 1,67 \text{ cm}^2 = \mathbf{16,7 \text{ cm}^2}$
--	--

<p>14</p> <p>Schreibe als Dezimalzahl:</p> <p>a) 10^{-2}</p> <p>b) $3,4 \cdot 10^{-3}$</p> <p>c) $12,3 \cdot 10^4$</p> <p>d) $0,25 \cdot 10^{-2}$</p>	<p>a) $10^{-2} = \frac{1}{10^2} = \frac{1}{100} = \mathbf{0,01}$</p> <p>b) $3,4 \cdot 10^{-3} = 3,4 \cdot 0,001 = \mathbf{0,0034}$</p> <p>c) $12,3 \cdot 10^4 = 1,23 \cdot 10^5 = \mathbf{123000}$</p> <p>d) $0,25 \cdot 10^{-2} = 2,5 \cdot 10^{-3} = \mathbf{0,0025}$</p>
---	---

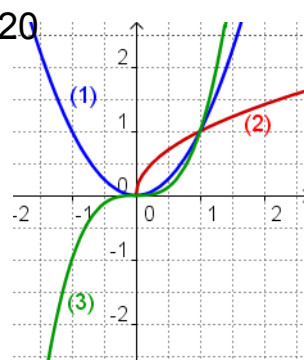
<p>15</p> <p>Ergänze die Potenzgesetze:</p> <p>a) $a^p \cdot a^q =$ $a^p : a^q =$</p> <p>b) $a^p \cdot b^p =$ $a^p : b^p =$</p> <p>c) $(a^p)^q =$</p> <p>d) $a^p \cdot b^q =$</p>	<p>a) $a^p \cdot a^q = a^{p+q}$ $a^p : a^q = \frac{a^p}{a^q} = a^{p-q}$</p> <p>b) $a^p \cdot b^p = (a \cdot b)^p$ $a^p : b^p = (a : b)^p$</p> <p>c) $(a^p)^q = a^{p \cdot q}$</p> <p>d) $a^p \cdot b^q$ geht i. a. nicht weiter!</p>
---	--

<p>16</p> <p>Vereinfache:</p> <p>a) $a^3 \cdot a^{-2}$ b) $b^6 : b^4$ c) $(x^{-3})^4$</p> <p>d) $x^8 : x^{-5}$ e) $(-a^2)^{-3}$ f) $3a^3 \cdot 5a^{-6}$</p> <p>g) $\frac{x^4 y^{-3} z^2}{z^2 y^3 x^{-4}}$ h) $(a^3 \cdot b^4)^3$ i) $\left(\frac{x}{y}\right)^{-2} : \left(\frac{x}{2y}\right)^{-2}$</p>	<p>a) a b) b^2 c) x^{-12}</p> <p>d) x^{13} e) $\frac{1}{(-a^2) \cdot (-a^2) \cdot (-a^2)} = -a^{-6}$</p> <p>f) $15a^{-3}$ g) $x^8 y^{-6}$ h)</p> <p>$a^9 \cdot b^{12}$ i) $\left(\frac{y}{x}\right)^2 \cdot \left(\frac{x}{2y}\right)^2 = \left(\frac{y \cdot x}{x \cdot 2y}\right)^2 = \frac{1}{4}$</p>
---	---

<p>17</p> <p>Was versteht man unter $a^{\frac{1}{n}}$? Für welche Werte von a ist dieser Ausdruck nur sinnvoll?</p>	<p>Die n-te Wurzel von a, $a^{\frac{1}{n}}$, ist diejenige nichtnegative Zahl, deren n-te Potenz a ergibt:</p> $\left(a^{\frac{1}{n}}\right)^n = a$ <p>Sinnvoll nur für $a \geq 0, n \in \mathbb{N}$ mit $n \geq 1$</p> <p>Schreibweise: $a^{\frac{1}{n}} = \sqrt[n]{a}$</p>
---	---

<p>18</p> <p>Für welche Werte von a, p und q ist der Ausdruck $a^{\frac{p}{q}}$ definiert?</p>	$a^{\frac{p}{q}} = \left(a^p\right)^{\frac{1}{q}} = \sqrt[q]{a^p}$ <p>Sinnvoll nur für $a \geq 0$, wobei $q \neq 0$</p>
---	---

<p>19</p> <p>Vereinfache:</p> <p>a) $100^{\frac{3}{2}}$ b) $9^{-\frac{1}{2}}$ c) $5^{\frac{2}{3}} \cdot 5^{\frac{1}{2}}$ d) $\sqrt[8]{16^2}$ e) $\sqrt[4]{a^6} \cdot \sqrt{a^5}$ f) $(\sqrt[3]{2})^9$ g) $(\sqrt[4]{x})^{-2}$</p>	<p>a) $\sqrt{100^3} = 10^3 = 1000$ b) $\left(\frac{1}{9}\right)^{\frac{1}{2}} = \frac{1}{3}$ c) $5^{\frac{2}{3}} \cdot 5^{\frac{1}{2}} = 5^{\frac{2}{3} + \frac{1}{2}} = 5^{\frac{7}{6}}$ d) $2^{\frac{4 \cdot 2}{8}} = 2$ e) $a^{\frac{3}{2}} \cdot a^{\frac{5}{2}} = a^4$ f) $2^{\frac{9}{3}} = 2^3 = 8$ g) $\left(\frac{1}{\sqrt[4]{x}}\right)^2 = \frac{1}{x^{\frac{1}{2}}} = \frac{1}{\sqrt{x}} = \frac{\sqrt{x}}{x}$</p>
--	---

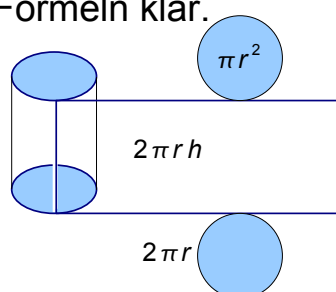
<p>20</p> <p>Ordne die Graphen zu:</p> <p>a) $y = x^3$ b) $y = -x^2$ c) $y = x^2$ d) $y = x^{\frac{1}{2}}$</p>		<p>(1) gehört zu c) (2) gehört zu d) (3) gehört zu a)</p>
---	---	---

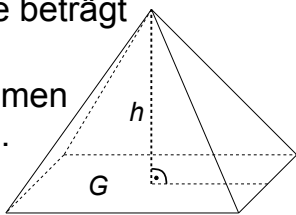
<p style="text-align: center;">21</p> <p>Bestimme wenn möglich die exakten Lösungen:</p> <p>a) $x^2=9$ b) $x^4=0$ c) $x^4=10$ d) $x^6=-1$ e) $x^3=21$ f) $x^3=-27$ g) $x^{\frac{2}{3}}=2$ h) $\sqrt{x^5}=4$</p>	<p>a) $x_{1/2}=\pm 3$ b) $x=0$ c) $x_{1/2}=\pm \sqrt[4]{10}$ d) keine Lösung e) $x=\sqrt[3]{21}$ f) $x=-\sqrt[3]{27}=-3$ g) $x=2^{\frac{3}{2}}=\sqrt{8}=2\sqrt{2}$ h) $x^5=4^2=2^4 \rightarrow x=2^{\frac{4}{5}}=\sqrt[5]{16}$</p>
<p style="text-align: center;">22</p> <p>Was versteht man unter dem Ausdruck $\log_a(b)$?</p> <p style="text-align: center;">Bestimme $3^{\log_3(7)}$</p>	<p>$\log_a(b)$ ist der Logarithmus von b zur Basis a.</p> <p>Das ist die (Hoch-)Zahl, die für x eingesetzt bei a^x den Wert b ergibt.</p> <p>$\log_3(7)$ ist die Zahl, die für x bei 3^x den Wert 7 ergibt. Somit ist (trivialerweise) $3^{\log_3(7)}=7$.</p>
<p style="text-align: center;">23</p> <p>Berechne exakt:</p> <p>a) $\log_3(81)$ b) $\log_9\left(\frac{1}{81}\right)$ c) $\log_5(625)$ d) $\log(1000)$ e) $\log_4(16^{4,7})$</p>	<p>a) 4 b) -2 c) 4 d) 3 e) $\log_4(16^{4,7}) \rightarrow \log_4(16^{4,7})=9,4$</p>
<p style="text-align: center;">24</p> <p>a) Bestimme die Basis a von $\log_a(16)=-4$. b) Bestimme b von $\log_4(b)=3$</p>	<p>a) Weil $a^{-4}=16 \rightarrow \left(\frac{1}{a}\right)^4=16 \rightarrow a^4=\frac{1}{16}$ b) $4^3=2^6=64$</p>

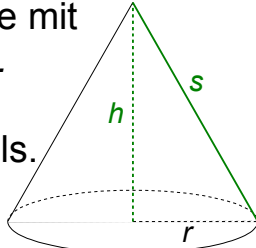
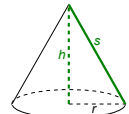
<p>25</p> <p>Löse die Gleichungen:</p> <p>a) $3^x=81$ b) $3 \cdot 5^x=27$ c) $2 \cdot 10^{2x+1}=4$ d) $6 \cdot 2^x+7=2^x+12$</p>	<p>a) $x=\log_3(81)=4$ b) $5^x=9 \rightarrow x=\log_5(9)=\frac{\log(9)}{\log(5)} \approx 1,37$ c) $10^{2x+1}=2 \rightarrow 2x+1=\log(2)$ $\rightarrow x=\frac{1}{2} \cdot (\log 2 - 1) \approx -0,35$ d) $5 \cdot 2^x=5 \rightarrow 2^x=1 \rightarrow x=0$</p>
---	---

<p>26</p> <p>Herr Schatz möchte 1.000 € zu 5,2% für 8 Jahre anlegen. Wie groß ist das Guthaben nach 8 Jahren?</p>	<p>Exponentielles Wachstum:</p> $B(n)=B(0) \cdot a^n$ <p>Wachstumsfaktor: $a=1+p\%$ Geg.: $B(0)=1000$; $a=1,052$; $n=8$ Ges.: $B(8)$ $B(8)=1000 \cdot 1,052^8=1.500,12$ Das Guthaben nach 8 Jahren beträgt 1.500,12 €.</p>
---	--

<p>27</p> <p>Ein Glas Milch wird aus dem Kühlschrank mit der Temperatur 6°C in ein Zimmer mit der Raumtemperatur 26°C gebracht. Nach 10 Minuten ist die Temperatur der Milch auf 12°C gestiegen. Welche Temperatur hat die Milch nach 30 Minuten?</p>	<p>Beschränktes Wachstum:</p> $B(n)=B(n-1)+c \cdot (S-B(n-1))$ <p>Sättigungsmanko: $S-B(n-1)$ Geg.: $B(0)=6$; $\Delta n=10$ [Min.]; $B(1)=12$ Schranke $S=26$. Ges.: $B(3)$ $B(1)=12 \rightarrow c=0,3 \rightarrow B(3)=19,14$ Nach 30 Minuten hat die Milch eine Temperatur von etwa 19°C.</p>
---	---

<p>28</p> <p>Mache dir die Formeln klar. Welches Volumen und welche Oberfläche hat der Zylinder?</p> 	<p>Kreisfläche: $A_{\text{Kreis}}=\pi \cdot r^2$</p> <p>Der abgewickelte Mantel ist ein Rechteck mit den Seiten $u=2\pi r$ und $h \rightarrow$ Mantelfläche: $M=2\pi r h$</p> <p>Oberfläche:</p> $O=2\pi r h+2\pi r^2=2\pi r \cdot (h+r)$ <p>Volumen: $V=\pi r^2 \cdot h$</p>
--	--

<p style="text-align: center;">29</p> <p>Die Grundfläche der Pyramide ist ein Quadrat mit der Seitenlänge $a=4\text{ cm}$. Die Höhe beträgt $h=6\text{ cm}$. Berechne das Volumen und die Oberfläche.</p> 	<p>Volumen : $V = \frac{1}{3} G h = \frac{1}{3} a^2 h = 32\text{ cm}^3$</p> <p>Höhe eines Außendreiecks:</p> $h_1 = \sqrt{h^2 + \left(\frac{a}{2}\right)^2} = 2 \cdot \sqrt{10}\text{ cm} \approx 6,3\text{ cm}$ <p>Oberflächeninhalt:</p> $O = a^2 + 4 \cdot \left(\frac{1}{2} a h_1\right) \approx 66,6\text{ cm}^2$
---	--

<p style="text-align: center;">30</p> <p>Der Kegel hat die Höhe $h=4\text{ cm}$ und eine Mantellinie mit der Länge $s=5\text{ cm}$. Berechne das Volumen des Kegels.</p> 	 <p>Radius:</p> $r = \sqrt{25 - 16}\text{ cm} = 3\text{ cm}$ <p>Volumen:</p> $V = \frac{1}{3} \pi r^2 h \approx 37,7\text{ cm}^3$
--	--

<p style="text-align: center;">31</p> <p>Mit einem Würfel wird zweimal gewürfelt. Mit welcher Wahrscheinlichkeit erhält man mindestens eine Sechs? Rechne mit Hilfe des Gegeneignisses.</p>	<p>Ereignis A: Mindestens eine 6. Gegeneignis \bar{A}: keine 6.</p> $P(\bar{A}) = \frac{5}{6} \cdot \frac{5}{6} = \frac{25}{36}$ $P(A) = 1 - P(\bar{A}) = \frac{11}{36} \approx 30,6\%$
--	--

<p style="text-align: center;">32</p> <p>Mit einem Würfel wird zweimal gewürfelt. Mit welcher Wahrscheinlichkeit erhält man mindestens eine Sechs? Rechne mit Hilfe des Additionssatzes.</p>	<p>A: Mindestens eine 6.</p> <p>E: Im ersten Wurf eine 6. $P(E) = \frac{1}{6}$</p> <p>F: Im zweiten Wurf eine 6: $P(F) = \frac{1}{6}$</p> <p>$A = E \cup F$ (E oder F)</p> <p>$E \cap F = \{(6,6)\}$ (E und F), $P(E \cap F) = \frac{1}{36}$</p> <p>$P(A) = P(E) + P(F) - P(E \cap F) = \frac{11}{36}$</p>
---	--

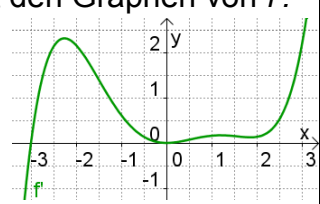
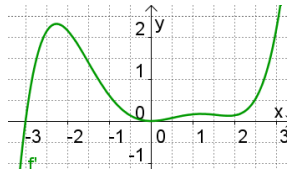
<p style="text-align: center;">33</p> <p>Zwei Würfel werden geworfen. <i>E</i>: Der erste Würfel zeigt eine 6. <i>F</i>: Die Augensumme beider Würfel ist 7. Untersuche durch Rechnung, ob <i>E</i> und <i>F</i> unabhängig sind.</p>	$P(E) = \frac{6}{36} = \frac{1}{6}$ $F = \{(1,6); (2,5); (3,4); (4,3); (5,2); (6,1)\};$ $\rightarrow P(F) = \frac{6}{36} = \frac{1}{6}$ $E \cap F = \{(6,1)\} \rightarrow P(E \cap F) = \frac{1}{36}$ <p>→ <i>E</i> und <i>F</i> sind unabhängig, denn es gilt: $P(E \cap F) = P(E) \cdot P(F)$.</p>
<p style="text-align: center;">34</p> <p>Zwei Würfel werden geworfen. <i>E</i>: Der erste Würfel zeigt eine 6. <i>F</i>: Die Augensumme beider Würfel ist 8. Untersuche durch Rechnung, ob <i>E</i> und <i>F</i> unabhängig sind.</p>	$P(E) = \frac{6}{36} = \frac{1}{6}$ $F = \{(2,6); (3,5); (4,4); (5,3); (6,2)\};$ $\rightarrow P(F) = \frac{5}{36}$ $E \cap F = \{(6,2)\} \rightarrow P(E \cap F) = \frac{1}{36}$ <p>→ <i>E</i> und <i>F</i> sind nicht unabhängig, denn es gilt: $P(E \cap F) \neq P(E) \cdot P(F)$.</p>
<p style="text-align: center;">35</p> <p>Nenne drei Interpretationen der ersten Ableitung an der Stelle x_0.</p>	$1.) f'(x_0) = \lim_{x \rightarrow x_0} \frac{f(x) - f(x_0)}{x - x_0} = \lim_{h \rightarrow 0} \frac{f(x_0 + h) - f(x_0)}{h}$ <p>Definition von f' als Grenzwert des Differenzenquotienten.</p> <p>2.) $f'(x_0)$ beschreibt die Steigung des Schaubildes von f an der Stelle x_0</p> <p>3.) $f'(x_0)$ beschreibt die lokale (momentane) Änderungsrate der Funktion f an der Stelle x_0.</p>
<p style="text-align: center;">36</p> <p>Bestimme den Differenzenquotienten im Intervall $[7; 9]$ für die Funktion $f(x) = 0,5 \cdot x^2$.</p>	<p>Differenzenquotient:</p> $\begin{aligned} \frac{f(9) - f(7)}{9 - 7} &= \frac{0,5 \cdot 9^2 - 0,5 \cdot 7^2}{2} \\ &= \frac{0,5 \cdot (81 - 49)}{2} \\ &= \frac{16}{2} = 8 \end{aligned}$

<p>37</p> <p>Bestimme jeweils die Ableitungsfunktion f':</p> <p>a) $f(x) = 3x^4 - 5x^7$</p> <p>b) $f(x) = 2x^{-2} + \frac{8}{x}$</p> <p>c) $f(x) = -\frac{1}{2x^2} + \sqrt{x}$</p>	<p>a) $f'(x) = 12x^3 - 35x^6$</p> <p>b) $f'(x) = -4x^{-3} - \frac{8}{x^2}$; da $8x^{-1} = \frac{8}{x}$</p> <p>c) $f'(x) = \frac{1}{x^3} + \frac{1}{2\sqrt{x}}$; da $-\frac{1}{2}x^{-2} = -\frac{1}{2x^2}$ und $x^{\frac{1}{2}} = \sqrt{x}$ bzw. $\frac{1}{2}x^{-\frac{1}{2}} = \frac{1}{2\sqrt{x}}$</p>
--	--

<p>38</p> <p>Skizziere den Graphen der Ableitungsfunktion f' in das Schaubild zu f.</p> <p>Stimmen die folgenden Aussagen? Begründe!</p> <p>a) $f'(0) = 0$ b) $f'(x) \geq 0$ in $[1; 2]$</p>	<p>Beide Aussagen sind falsch:</p> <p>zu a) bei $x=0$ fällt das Schaubild von f, somit ist $f'(0) < 0$.</p> <p>zu b) auch zwischen 1,6 und 2 fällt das Schaubild von f.</p>
---	---

<p>39</p> <p>Bestimme die Gleichung der Tangenten im Punkt $P(-3 f(-3))$ an den Graphen von f mit $f(x) = 2x^2 - x$</p>	<p>Eine Verschiebung der Ursprungsgeraden mit der Steigung $m = f'(x_P)$ um x_P in x-Richtung und y_P in y-Richtung liefert die Tangente:</p> <p>$f'(x) = 4x - 1 \rightarrow f'(-3) = -13$ $f(-3) = 21$ $\rightarrow t: y = -13(x+3) + 21$ (ausmultipliziert $t: y = -13x - 18$)</p>
--	---

<p>40</p> <p>Bestimme mithilfe der Ableitung eventuelle Hoch-, Tief- und Sattelpunkte des Graphen von f mit $f(x) = 3x^2 - 2x + 1$.</p>	<p>$f'(x) = 6x - 2 \stackrel{!}{=} 0 \rightarrow x = \frac{1}{3}$</p> <p>Testwerte nahe $\frac{1}{3}$ ergeben einen Vorzeichenwechsel von - nach +.</p> <p>\rightarrow bei $x = \frac{1}{3}$ liegt ein Tiefpunkt T.</p> <p>$\rightarrow T\left(\frac{1}{3} f\left(\frac{1}{3}\right)\right) \rightarrow T\left(\frac{1}{3} \frac{2}{3}\right)$</p>
--	--

<p style="text-align: center;">41</p> <p>Die Abbildung zeigt den Graphen von f'. Stimmen die Aussagen? Begründe!</p> <p>a) f hat bei $x=-3$ ein lokales Min. b) f hat bei $x=0$ ein lokales Maximum. c) f ist im Intervall $[2;3]$ mon. fallend.</p> 	<p>zu a) stimmt, da bei $x=-3$ eine Nullstelle von f' mit VZ-Wechsel von $-$ nach $+$ vorliegt.</p> <p>zu b) falsch, $x=0$ ist zwar Nullstelle, aber ohne Vorzeichenwechsel.</p> <p>zu c) falsch, $f'(x) > 0$ in $[2;3]$ → f ist hier streng monoton steigend.</p> 
--	--

<p style="text-align: center;">42</p> <p>Bestimme die gegenseitige Lage der Geraden</p> $g: \vec{x} = \begin{pmatrix} 3 \\ 6 \\ 4 \end{pmatrix} + r \begin{pmatrix} 4 \\ 8 \\ 2 \end{pmatrix} \quad \text{und} \quad h: \vec{x} = \begin{pmatrix} 1 \\ 0 \\ 3 \end{pmatrix} + s \begin{pmatrix} -4 \\ -6 \\ 2 \end{pmatrix}$	<p>g und h sind nicht parallel (oder gar identisch), denn die Richtungsvektoren sind keine Vielfachen voneinander.</p> <p>Schnittpunktbestimmung mit LGS:</p> $\begin{array}{l l} 3+4r=1-4s & r=-1,5 \text{ und } s=1 \text{ löst} \\ 6+8r=-6s & \left \begin{array}{l} 3+4r=1-4s \\ 6+8r=-6s \end{array} \right. \\ 4+2r=3+2s & \left \begin{array}{l} 3+4r=1-4s \\ 6+8r=-6s \end{array} \right. \end{array}$ <p>aber nicht die dritte Gleichung. → g und h sind zueinander windschief.</p>
--	--

<p style="text-align: center;">43</p> <p style="text-align: center;">Wie entsteht der Graph der Funktion g aus dem Graphen der Funktion f?</p> <p>a) $g(x)=2^{x+1}-3$ $f(x)=2^x$ b) $g(x)=3\sin(x)+1$ $f(x)=\sin x$</p>	<p>a) In $g(x)$ steht statt x $(x+1)$ → Verschiebung um -1 in x-Richtung. Der konstante Summand -3 bewirkt eine Verschiebung um -3 in y-Richtung.</p> <p>b) Wegen dem Faktor 3 folgt die Streckung um 3 in y-Richtung. Zusätzlich gibt es eine Verschiebung um 1 in y-Richtung (vgl. a).</p>
---	--

<p style="text-align: center;">44</p> <p>Gegeben ist die Funktion f mit $f(x)=2 \cdot \sin(1,5x)+1$.</p> <p>Gib die Amplitude a und die Periode p der Funktion f an. Bestimme weiter alle Extrempunkte im Intervall $I=[0;p]$.</p>	<p>f hat die Amplitude $a=2$ und die Periode $p=\frac{4\pi}{3}$.</p> <p>Max. der Sinusfunktion bei $x=\frac{p}{4}=\frac{\pi}{3}$ → Hochpunkt: $H\left(\frac{\pi}{3} 3\right)$</p> <p>Min. der Sinusfunktion bei $x=\frac{3p}{4}=\pi$ → Tiefpunkt: $T(\pi -1)$</p>
--	--

45

Bei einem Glücksspiel mit 1€ Einsatz wirft man zwei Würfel. Bei einer Sechs erhält man 2€. Zeigen beide Würfel eine Sechs, erhält man 10€. Die Zufallsvariable X gibt den Gewinn in € an.

a) Erstelle die Wahrsch.-Verteilung für X .
 b) Welchen durchschnittlichen Gewinn kann man auf lange Sicht erwarten?

a) X kann die Werte -1, 1 und 9 annehmen. Die zugehörigen Wahrscheinlichkeiten erhält man z. B. mit einem Baumdiagramm.

g	-1	1	9
$P(X=g)$	$\frac{25}{36}$	$\frac{10}{36}$	$\frac{1}{36}$

b) $E(X) = -1 \cdot \frac{25}{36} + 1 \cdot \frac{10}{36} + 9 \cdot \frac{1}{36} = -0,17$
 Man verliert auf lange Sicht durchschnittlich 0,17 ct pro Spiel

46

Ein fairer Spielwürfel wird sechsmal geworfen.
 Gib die Bernoulli-Formel an, mit welcher die Wahrscheinlichkeit berechnet werden kann, dass genau zwei Sechsen fallen.

Trefferwahrscheinl.: $p = P(\text{"Sechs"}) = \frac{1}{6}$
 Länge der Bernoulli-Kette: $n = 6$
 Anzahl der Treffer: $k = 2$
 Bernoulli-Formel:

$$P(X=k) = \binom{n}{k} \cdot p^k \cdot (1-p)^{n-k}$$

$\rightarrow P(X=2) = \binom{6}{2} \cdot \left(\frac{1}{6}\right)^2 \cdot \left(\frac{5}{6}\right)^4$

47

Etwa 20% der Deutschen sind Linkshänder. Berechne mit dem GTR/CAS die Wahrscheinlichkeit, dass in einer Schulklasse mit 30 Schülern

a) genau sechs Linkshänder sind,
 b) höchstens fünf Linkshänder sind,
 c) zwischen fünf und zehn Linkshänder sind.

Die Zufallsvariable X beschreibt die Anzahl der Linkshänder in der Klasse.

a) $P(X=6) \approx 0,1795 \approx 18,0\%$
 b) $P(X \leq 5) \approx 0,428 = 42,8\%$
 c) $P(5 \leq X \leq 10) \approx 0,719 = 71,9\%$

48

a) Da die Binomialverteilung bis $k=16$ dargestellt ist, kann $n=16$ angenommen werden.
 Der Erwartungswert E der Binomialverteilung befindet sich bei $k=4$. Daher gilt nach $E=np \rightarrow p \approx 0,25$.

b) $P(X=1) = 0,05 = 5\%$
 $P(X > 1) = 1 - P(X=1) - P(X=0) \approx 94\%$

a) Bestimme n und p bei der dargestellten Binomialverteilung.
 b) Bestimme $P(X=1)$ und $P(X > 1)$.