


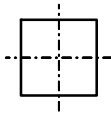
Der **Maßstab** gibt an, ob eine Fläche oder ein Gegenstand
 _____ , _____ , oder in _____
 dargestellt ist.

Beispiele für den Maßstab: (M)

Natur:

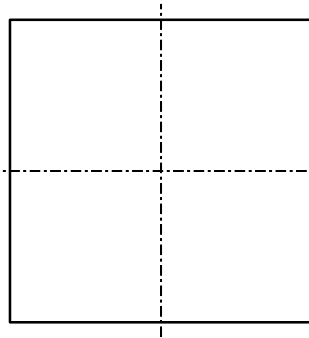


Zeichnung 1



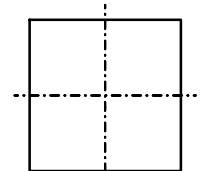
M: _____

Zeichnung 2



M: _____

Zeichnung 3



M: _____

Aufgaben:

1. Zeichne die Strecke in folgenden Maßstäben:

M 1 : 1

M 2 : 1

M 1 : 2

M 1 : 10

2. Zeichne das Rechteck (M 1 : 1) in folgenden Maßstäben:



M 1 : 1



M 4 : 1



M 1 : 2

0-Maßstab_Schüler.cad

Benennung:

Der Maßstab

Blatt-Nr:

Maßstab:

Geprüft:

Datum:

Name:

Klasse: