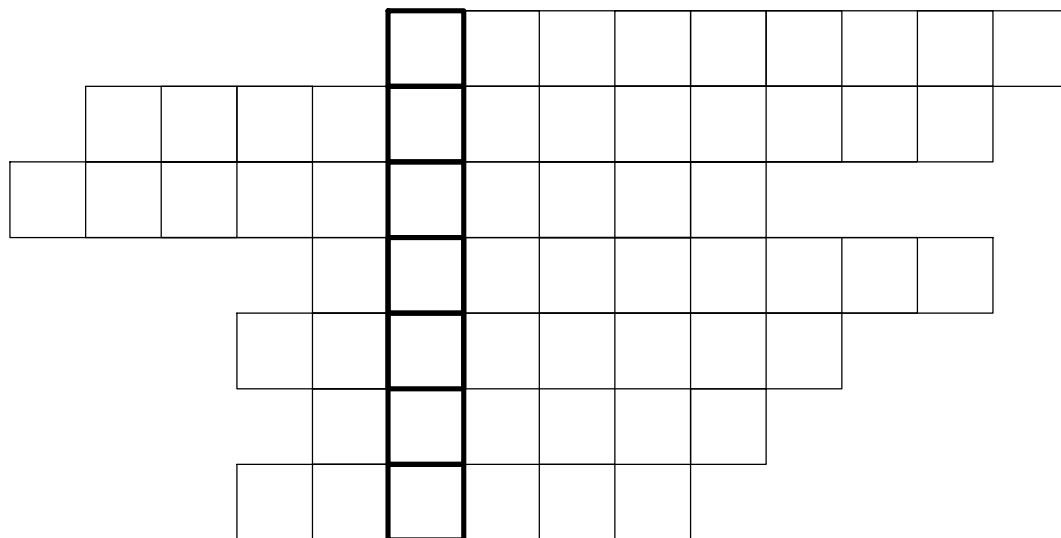


Kreuzworträtsel:

- 1.
- 2.
- 3.
- 4.
- 5.
- 6.
- 7.

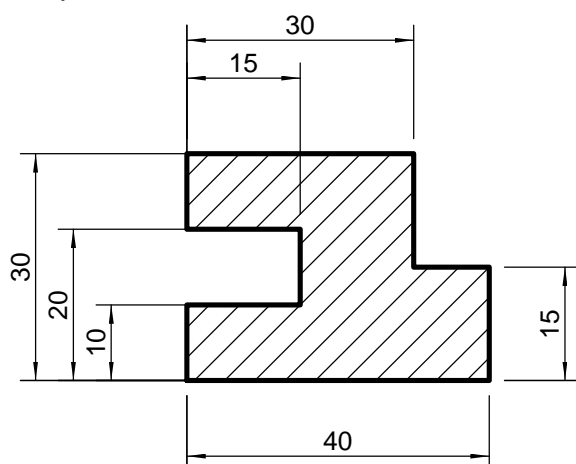


➔ **MACHT SPASS!**

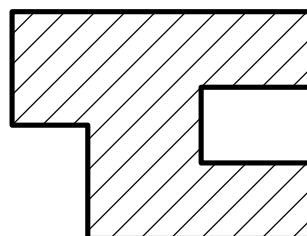
1. Mit welchem Zeichengerät bemaßen wir technische Zeichnungen?.
2. Parallel zu ihnen werden die Maßlinien gezeichnet.
3. Die Maßzahlen geben die Maße in an.?
4. Sie befinden sich zwischen den Maßhilfslinien.
5. Darüber steht in der Mitte steht die Maßzahl.
6. Von welcher Seite müssen die senkrechten Maße lesbar sein?
7. Wie oft darf jede Körperkante bemaßt werden?

Bemaße die Schnittdarstellung!

Beispiel:



Aufgabe:



Kreuzworträtsel-Bem.cad

Benennung:

KREUZWORTRÄTSEL - BEMASSUNGSAUFGABE

Blatt-Nr:

Maßstab:

Geprüft:

Datum:

Name:

Klasse:
