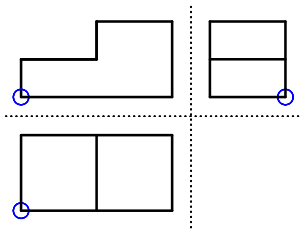
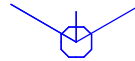


AUFGABE 1 Zeichne die Körper in der
Isometrischen Projektion
im Maßstab 2 : 1!

1.



Seitenansicht

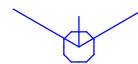
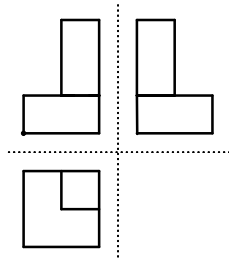


Vorderansicht

je Körper
3 Punkte:

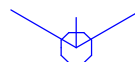
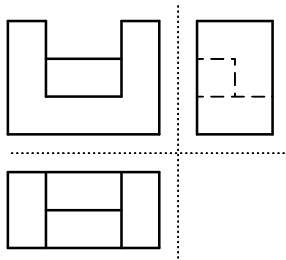
1.

2.



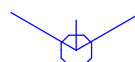
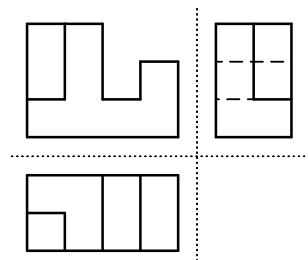
2.

3.



3.

4.



4.

Schriftfelder in
NORMSCHRIFT
ausfüllen! (2 P)

Gesamtpunkte
Aufgabe 1:

Benennung:

**VORBEREITUNG KLASSENARBEIT TECHNISCHES
ZEICHNEN**

Blatt-Nr:

1

Maßstab:

2 : 1

Geprüft:

Datum:

Name:

Klasse:

TS 2007