




# Einkaufen



Deine Aufgabe:

Einkaufen: beim Bäcker, im Lebensmittelgeschäft, im Spielwarengeschäft und auf dem Markt.

Für jedes Geschäft hast du einen Einkaufszettel. Du siehst, wie teuer die einzelnen Waren sind und wie viele Waren du einkaufen sollst.

- Rechne den Betrag, den du in den einzelnen Geschäften zahlen musst, aus.
- Trage den Betrag in das Betragfeld ein.
- Schreibe auf dem letzten Blatt die einzelnen Beträge auf.
- Zähle dann alle Einkaufsbeträge zusammen.
- Schreibe zum Schluss den gesamten Einkaufsbetrag in das Feld.

Viel Freude beim Einkaufen und Rechnen.



# Einkaufen

Wie teuer ist mein Einkauf?



Beim Bäcker



1 Brezel  
0,70€



1 Brötchen  
0,60€



Brot  
3,50€

Einkaufszettel

|            |  |
|------------|--|
| 3 Brezeln  |  |
| 4 Brötchen |  |
| 1 Brot     |  |
|            |  |
|            |  |
|            |  |
|            |  |
|            |  |
|            |  |



Ich bezahle:


Trage hier den Betrag ein

# Einkaufen

Wie teuer ist mein Einkauf?



Im  
Lebensmittelgeschäft



Butter  
1,20€

Milch  
0,80€

Quark  
1,10€

Käse  
1,20€

Schokolade  
1,30€

Reis  
2,20€

## Einkaufszettel

1 Butter



2 Milch



1 Quark



1 Käse



2 Schokoladen



1 Packung Reis



Ich bezahle:



Trage hier den Betrag ein

# Einkaufen

Wie teuer ist mein Einkauf?



Im  
Spielwarengeschäft



Fußball  
17,00€

Puppe  
12,50€

Wasserpistole  
8,00€

Teddybär  
14,00€

Einkaufszettel

|                  |   |
|------------------|---|
| 1 Teddybär       |  |
| 2 Wasserpistolen |  |
| 1 Puppe          |  |
| 1 Fußball        |  |




Ich bezahle:



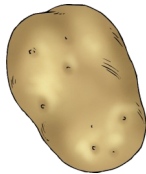
Trage hier den Betrag ein

# Einkaufen

Wie teuer ist mein Einkauf?



Markt



1 Pfund Äpfel  
0,80€

Gurke  
0,70€

1 Pfund Kartoffeln  
1,10€

Kopfsalat  
0,90€

1 Pfund Tomaten  
1,60€

Einkaufszettel

|                    |  |
|--------------------|--|
| 2 Pfund Äpfel      |  |
| 3 Gurken           |  |
| 4 Pfund Kartoffeln |  |
| 2 Kopfsalat        |  |
| 1 Pfund Tomaten    |  |

Ich bezahle:



Trage hier den Betrag ein



# Einkaufen

Wie teuer waren meine Einkäufe?

Ich habe bezahlt:

Bäcker:

Lebensmittelgeschäft:

Spielwarengeschäft:


Markt:

Gesamter Einkauf:





# Einkaufen



Deine Aufgabe:

Einkaufen: beim Bäcker, im Lebensmittelgeschäft, im Spielwarengeschäft und auf dem Markt.

Für jedes Geschäft hast du einen Einkaufszettel. Du siehst, wie teuer die einzelnen Waren sind und wie viele Waren du einkaufen sollst.

- Rechne den Betrag, den du in den einzelnen Geschäften zahlen musst, aus.
- Trage den Betrag in das Betragfeld ein.
- Schreibe auf dem letzten Blatt die einzelnen Beträge auf.
- Zähle dann alle Einkaufsbeträge zusammen.
- Schreibe zum Schluss den gesamten Einkaufsbetrag in das Feld.

Viel Freude beim Einkaufen und Rechnen.

